



专题 5 圆系与曲线系



秒杀秘籍：第一讲 圆系和曲线系中的四点共圆

圆系：具有某种共同属性的圆的集合.

几种常见的圆系方程：

(1) 同心圆系： $(x-x_0)^2+(y-y_0)^2=r^2$ ， x_0, y_0 为常数， r 为参数.

(2) 过两已知圆 $C_1: f_1(x, y) = x^2 + y^2 + D_1x + E_1y + F_1 = 0$ 和 $C_2: f_2(x, y) = x^2 + y^2 + D_2x + E_2y + F_2 = 0$ 的交点的圆系方程为： $x^2 + y^2 + D_1x + E_1y + F_1 + \lambda(x^2 + y^2 + D_2x + E_2y + F_2) = 0$ ($\lambda \neq -1$)

若 $\lambda = -1$ 时，变为 $(D_1 - D_2)x + (E_1 - E_2)y + F_1 - F_2 = 0$ ，则表示过两圆的交点的直线.

其中两圆相交时，此直线表示为公共弦所在直线，当两圆相切时，此直线为两圆的公切线，当两圆相离时，此直线表示与两圆连心线垂直的直线.

(3) 过直线与圆交点的圆系方程：设直线 $l: Ax + By + C = 0$ 与圆 $C: x^2 + y^2 + Dx + Ey + F = 0$ 相交，则过直线 l 与圆 C 交点的圆系方程为 $x^2 + y^2 + Dx + Ey + F + \lambda(Ax + By + C) = 0$.

曲线系：两相交直线与圆锥曲线相交构成的共同属性的集合.

两条直线所组成的二次曲线方程： $(a_1x + b_1y + c_1)(a_2x + b_2y + c_2) = 0$.

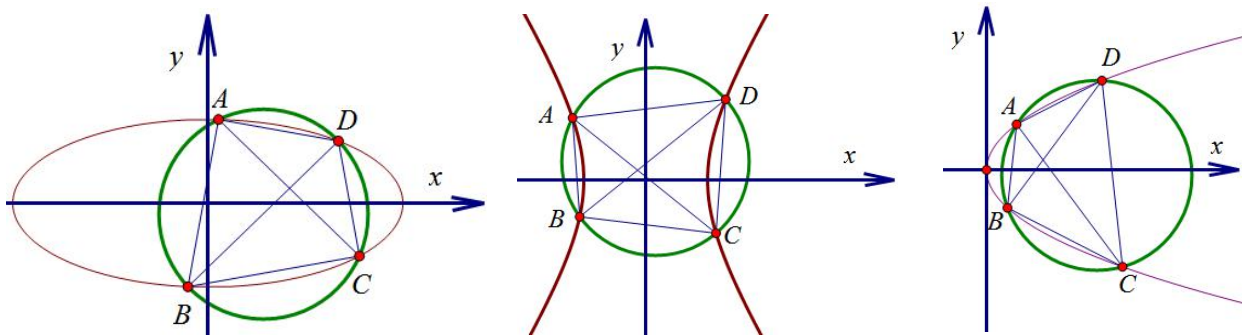
圆锥曲线上的四点共圆问题：设圆锥曲线方程为 $Ax^2 + Cy^2 + Dx + Ey + F = 0$ ，则存在四点共圆的情况必为

$Ax^2 + Cy^2 + Dx + Ey + F + \lambda(a_1x + b_1y + c_1)(a_2x + b_2y + c_2) = 0$ ，由于没有 xy 的项，必有 $a_1b_2 + a_2b_1 = 0$.

定理：圆锥曲线的内接四边形 $ABCD$ 出现四点共圆时，一定有任何一组对边对应所在的直线倾斜角互补. 其

方程可以写成 $Ax^2 + Cy^2 + Dx + Ey + F + \lambda(ax + by + c_1)(ax - by + c_2) = 0$ ，此时 $A + \lambda a^2 = C - \lambda b^2$ ，方程表示一个圆.

一个圆.



证明四点共圆的套路：1. 设出曲线系方程，解出 λ ； 2. 根据 $4R^2 = D^2 + E^2 - 4F > 0$ 证明四点一定共圆.

【例 1】求过圆： $x^2 + y^2 - 2x + 2y + 1 = 0$ 与圆： $x^2 + y^2 + 4x - 2y - 4 = 0$ 的交点，圆心在直线： $x - 2y - 5 = 0$ 的圆的方程.

【解析】设所求圆的方程为： $x^2 + y^2 - 2x + 2y + 1 + \lambda(x^2 + y^2 + 4x - 2y - 4) = 0$ ($\lambda \neq -1$). 整理得

$(1 + \lambda)x^2 + (1 + \lambda)y^2 + (4\lambda - 2)x + 2(1 - \lambda)y + 1 - 4\lambda = 0$ ，所以所求圆的圆心为 $(\frac{1 - 2\lambda}{1 + \lambda}, \frac{\lambda - 1}{1 + \lambda})$ ，由已知所求圆的



圆心在直线: $x-2y+5=0$ 上, 所以 $\frac{1-2\lambda}{1+\lambda}-2\times\frac{\lambda-1}{1+\lambda}+5=0$, 解得, $\lambda=-8$, 代入圆系方程整理得, 所求圆的方程为 $x^2+y^2+\frac{34}{7}x-\frac{18}{7}y-\frac{33}{7}=0$.

【例2】已知圆 $C:x^2+y^2-2x+4y-4=0$ 与直线 $x-y+m=0$ 相交于 A, B 两点, O 为坐标原点, 若 $OA \perp OB$, 求实数 m 的值.

【分析】充分挖掘本题的几何关系 $OA \perp OB$, 不难得出 O 在以 AB 为直径的圆上. 而 A, B 刚好为直线与圆的交点, 选取过直线与圆交点的圆系方程, 可极大地简化运算过程.

【解析】过直线 $l:x-y+m=0$ 与圆 $x^2+y^2-2x+4y-4=0$ 的交点的圆系方程为:

$$x^2+y^2-2x+4y-4+\lambda(x-y+m)=0, \text{ 即 } x^2+y^2+(-2+\lambda)x+(4-\lambda)y-4+\lambda m=0 \text{ ①}$$

依题意, O 在以 AB 为直径的圆上, 则圆心 $(-\frac{-2+\lambda}{2}, -\frac{4-\lambda}{2})$ 显然在直线 $x-y+m=0$ 上, 则 $-\frac{-2+\lambda}{2}+\frac{4-\lambda}{2}+m=0$, 解之可得 $\lambda=m+3$ 又 $O(0,0)$ 满足方程①, 则 $m\lambda=4$, 故 $m=1, -4$.

【例3】已知抛物线 $y^2=2px$. 过焦点 F 任作两条互相垂直的直线与抛物线分别交于 A, C 和 B, D , 问四点是否共圆? 若共圆, 求出圆的方程, 若不共圆, 说明理由.

【解析】设过焦点的两条弦 $AC:x=ky+\frac{p}{2}$; $BD:x=-\frac{1}{k}y+\frac{p}{2}$, 则由 AC 和 BD 构成的二次曲线方程为

$$x-ky-\frac{p}{2} \quad kx+y-\frac{p}{2} = 0, \text{ 若 } A, B, C, D \text{ 四点共圆, 则 } y^2-2px+\lambda \left(x-ky-\frac{p}{2}\right) \left(kx+y-\frac{p}{2}\right) = 0,$$

即 $y^2(1-\lambda k^2)+\lambda k^2 x^2+\lambda(1-k^2)xy+x-2p-\frac{p\lambda}{2}-\frac{pk\lambda}{2}+y\frac{pk\lambda}{2}-\frac{p\lambda}{2}=0$, 由于 xy 的系数为零, 故 $k^2=1$;

取 $k=1$ 得, $\lambda=\frac{1}{2}$; 故存在 A, B, C, D 四点共圆, 圆的方程为 $x-\frac{5p}{2}+y^2=6p^2$.

【例4】设椭圆 $C:\frac{x^2}{3}+\frac{y^2}{2}=1$, 过点 $P(1,1)$ 且倾斜角互补的两直线分别与椭圆交于 A, C 和 B, D , 证明四点共圆.

【解析】(1) 证明: 设 $AC:y-1=k(x-1)$; $BD:y-1=-k(x-1)$, 则由 AC 和 BD 构成的二次曲线方程为

$$(kx-y+1-k)(kx+y-1-k)=0, \text{ 若 } A, B, C, D \text{ 四点共圆, 则 } \frac{x^2}{3}+\frac{y^2}{2}-1+\lambda(kx-y+1-k)(kx+y-1-k)=0,$$

即 $x^2\frac{1}{3}+\lambda k^2 x^2+y^2\frac{1}{2}-\lambda-2\lambda k^2 x+2\lambda y+\lambda(k^2-1)-1=0$, 故 $\frac{1}{3}+\lambda k^2=\frac{1}{2}-\lambda$; 即 $\lambda=\frac{1}{6(1+k^2)}$ 时,

$$A, B, C, D \text{ 四点共圆, 圆的方程为 } x^2+y^2-\frac{2k^2}{3k^2+2}x+\frac{2}{3k^2+2}y-\frac{5k^2+7}{3k^2+2}=0.$$

$$4R^2=\frac{2k^2}{3k^2+2}^2+\frac{2}{3k^2+2}^2+\frac{20k^2+28}{3k^2+2}>0 \text{ 恒成立, 故 } A, C \text{ 和 } B, D \text{ 四点共圆.}$$

【例5】(2011·全国卷) 已知 O 为坐标原点, F 为椭圆 $C:x^2+\frac{y^2}{2}=1$ 在 y 轴正半轴上的焦点, 过 F 且斜率

为 $-\sqrt{2}$ 的直线 l 与 C 交于 A, B 两点, 点 P 满足 $\vec{OA}+\vec{OB}+\vec{OP}=\vec{0}$.



- (1) 证明: 点 P 在 C 上;
 (2) 设点 P 关于点 O 的对称点为 Q , 证明: A 、 P 、 B 、 Q 四点在同一圆上.

【证明】 (1) 法一: 设 $A(x_1, y_1)$, $B(x_2, y_2)$ 椭圆 $C: x^2 + \frac{y^2}{2} = 1$ ①, 则直线 AB 的方程为: $y = -\sqrt{2}x + 1$ ②

联立方程可得 $4x^2 - 2\sqrt{2}x - 1 = 0$,

则 $x_1 + x_2 = \frac{\sqrt{2}}{2}$, $x_1x_2 = -\frac{1}{4}$ 则 $y_1 + y_2 = -\sqrt{2}(x_1 + x_2) + 2 = 1$ 设 $P(p_1, p_2)$,

则有: $\vec{OA} = (x_1, y_1)$, $\vec{OB} = (x_2, y_2)$, $\vec{OP} = (p_1, p_2)$;

$\therefore \vec{OA} + \vec{OB} = (x_1 + x_2, y_1 + y_2) = (\frac{\sqrt{2}}{2}, 1)$;

$\vec{OP} = (p_1, p_2) = -(\vec{OA} + \vec{OB}) = (-\frac{\sqrt{2}}{2}, -1)$

$\therefore P$ 的坐标为 $(-\frac{\sqrt{2}}{2}, -1)$ 代入①方程成立, 所以点 P 在 C 上.

法二: 点差法如下设 $A(x_1, y_1), B(x_2, y_2)$, AB 中点 $M(x_0, y_0)$, 则 $\vec{OA} + \vec{OB} + \vec{OP} = 2\vec{OM} + \vec{OP} = 0$

$$\begin{cases} x_1^2 + \frac{y_1^2}{2} = 1 \text{ ①}; x_2^2 + \frac{y_2^2}{2} = 1 \text{ ②} \\ \frac{x_1 + x_2}{2} = x_0 \text{ ③}; \frac{y_1 + y_2}{2} = y_0 \text{ ④} \end{cases} \quad \text{①} - \text{②}, \text{ 代入 ③④⑤} \Rightarrow \frac{y_0}{x_0} = \sqrt{2}, \text{ 又 } y_0 = -\sqrt{2}x_0 + 1, \therefore \begin{cases} x_0 = \frac{\sqrt{2}}{4} \\ y_0 = \frac{1}{2} \end{cases}$$

$$\begin{cases} -\sqrt{2} = \frac{y_2 - y_1}{x_2 - x_1} \text{ ⑤} \end{cases}$$

$\therefore \vec{OP} = (-\frac{\sqrt{2}}{2}, -1)$, 代入椭圆方程成立, 所以点 P 在 C 上.

(2) 设点 P 关于点 O 的对称点为 Q , 证明: A 、 P 、 B 、 Q 四点在同一圆上. 设线段 AB 的中点坐标为 $M: (\frac{x_1 + x_2}{2}, \frac{y_1 + y_2}{2})$, 即 $M: (\frac{\sqrt{2}}{4}, \frac{1}{2})$, $\therefore P$ 关于点 O 的对称点为 Q , PQ 的直线方程为 $\sqrt{2}x - y = 0$:

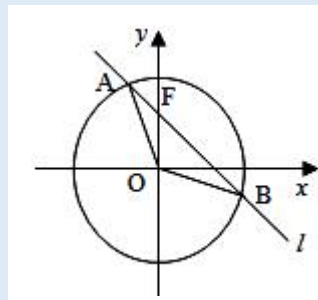
过 A 、 P 、 B 、 Q 的曲线系方程为 $(\sqrt{2}x + y - 1)(\sqrt{2}x - y) + \lambda(x^2 + \frac{y^2}{2} - 1) = 0$,

$\therefore (\lambda + 2)x^2 + \frac{\lambda}{2}y^2 - \sqrt{2}x + y - \lambda = 0$, 令 $\lambda + 2 = \frac{\lambda}{2} - 1$, 得 $\lambda = -6$, 故圆方程为 $4x^2 + 4y^2 + \sqrt{2}x - y - 6 = 0$,

$D^2 + E^2 - 4F = (\sqrt{2})^2 + (-1)^2 - 4 \times (-6) > 0$, $\therefore A$ 、 P 、 B 、 Q 四点在同一圆上.

【例 6】 (2016·四川文) 已知椭圆 $E: \frac{x^2}{a^2} + \frac{y^2}{b^2} = 1 (a > b > 0)$ 的一个焦点与短轴的两个端点是正三角形的三个顶点, 点 $P(\sqrt{3}, \frac{1}{2})$ 在椭圆 E 上.

- (1) 求椭圆 E 的方程;
 (2) 设不过原点 O 且斜率为 $\frac{1}{2}$ 的直线 l 与椭圆 E 交于不同的两点 A 、 B , 线段 AB 的中点为 M , 直线 OM 与椭圆 E 交于 C 、 D , 证明: $|MA| \cdot |MB| = |MC| \cdot |MD|$.





【解析】(1) 由题意可得
$$\begin{cases} a = 2b \\ a^2 = b^2 + c^2 \\ \frac{3}{a^2} + \frac{1}{4b^2} = 1 \end{cases}$$
，解得 $a^2 = 4$ ， $b^2 = 1$ ， \therefore 椭圆 E 的方程为 $\frac{x^2}{4} + y^2 = 1$ ；

(2) 证明：设 $A(x_1, y_1), B(x_2, y_2)$ ，则有
$$\begin{cases} \frac{x_1^2}{4} + y_1^2 = 1 \textcircled{1}; \frac{x_2^2}{4} + y_2^2 = 1 \textcircled{2} \\ \frac{x_1 + x_2}{2} = x_0 \textcircled{3}; \frac{y_1 + y_2}{2} = y_0 \textcircled{4}; \textcircled{1} - \textcircled{2}, \text{ 代入 } \textcircled{3} \textcircled{4} \textcircled{5} \Rightarrow \frac{y_0}{x_0} = -\frac{1}{2} \\ \frac{1}{2} = \frac{y_2 - y_1}{x_2 - x_1} \textcircled{5} \end{cases}$$

则 OM 所在直线方程为 $y = -\frac{1}{2}x$ ，设 AB 所在直线方程为 $y = \frac{1}{2}x + m$ ， A, B, C, D 四点和椭圆的曲线系

方程为 $\frac{x^2}{4} + y^2 - 1 + \lambda \left(\frac{1}{2}x - y - m - \frac{1}{2}x + y \right) = 0$ ，一定有 $x^2 \frac{1+\lambda}{4} + y^2(1-\lambda) - \frac{m\lambda}{2}x - m\lambda y - 1 = 0$ ，由于

无 xy 项，则当 $\frac{1+\lambda}{4} = 1-\lambda$ 时，即 $\lambda = \frac{3}{5}$ 时，圆方程为 $x^2 + y^2 - \frac{3m}{4}x - \frac{3m}{2}y - \frac{5}{2} = 0$ ，

$4R^2 = \frac{3m}{4}^2 + \frac{3m}{2}^2 + 4 \times \frac{5}{2} > 0$ ，故 A, B, C, D 四点共圆恒成立， $\therefore |MA| \cdot |MB| = |MC| \cdot |MD|$ 。



秒杀秘籍：第二讲 曲线系及其应用

方程形如 $ax^2 + by^2 + cxy + dx + ey + f = 0$ 的曲线，叫做二次曲线，它包括圆、椭圆、双曲线、抛物线以及退化的二次曲线——两条直线。

有必要解释一下什么叫做两条直线，注意如下方程： $(A_1x + B_1y + C_1)(A_2x + B_2y + C_2) = 0$ 。

显然，在它上面的点，要么满足 $A_1x + B_1y + C_1 = 0$ ，要么满足 $A_2x + B_2y + C_2 = 0$ ，故点的集合是两条直线。而这个方程展开后，是一个二次式，因此是退化的二次曲线。

设这条二次曲线的方程分别为 $S_1 = 0, S_2 = 0$ ，其中 S_1, S_2 均为二次式，有 $\lambda S_1 + \mu S_2 = 0$ 表示所有经过这两个曲线交点的二次曲线，即曲线系。

同样，如果能确定你需要的曲线不是 $S_1 = 0$ 或 $S_2 = 0$ 本身，我们可以只设一个参数。

当我们已知曲线 $H = 0$ ，要求某些未知数值的时候，我们利用方程： $\lambda S_1 + \mu S_2 = H$ ，两边对比系数即可。

同样，如果 H 不为 S_1 或 S_2 本身，通过除以 λ 或者 μ ，可知上式的两个待定系数可以放在任两个方程前面，应选择方便计算的。

【例 7】(2010·江苏) 椭圆 $\frac{x^2}{9} + \frac{y^2}{5} = 1$ 的左右顶点为 A, B 右焦点为 F 。设过点 $T(9, m)$ 的直线 TA, TB 分别与椭圆交于 $M(x_1, y_1), N(x_2, y_2)$ ，其中 $m > 0, y_1 > 0, y_2 < 0$ 。求证：直线 MN 必过 x 轴上一个定点。



【分析】注意到，二次曲线（两条直线） TA, TB 与二次曲线 AB, MN 有四个交点 A, B, M, N ，而椭圆正好过着四个点！而这些曲线中，只有 MN 我们不知道，于是利用曲线系， MN 与 x 轴的交点可求。

【解析】设 $MN: x = ky + n$ ，故我们只需要求出 n 。

$$TA: y = \frac{m}{12}(x+3)$$

已知 $TB: y = \frac{m}{6}(x-3)$ 因为椭圆过二次曲线 TA, TB 与二次曲线 AB, MN 的四个交点 A, B, M, N ，有

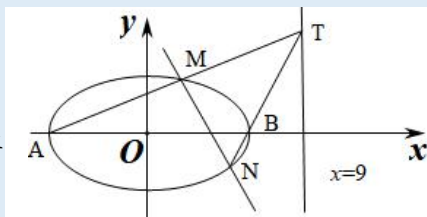
$$AB: y = 0$$

$$MN: x = ky + n$$

$$\left[y - \frac{m}{12}(x+3) \right] \left[y - \frac{m}{6}(x-3) \right] + \mu y(x - ky - n) = \lambda \left(\frac{x^2}{9} + \frac{y^2}{5} - 1 \right)$$

对比两边 xy 项系数，得 $-\frac{m}{6} - \frac{m}{12} + \mu = 0$ ，对比两边 y 项系数，得

$$-\frac{m}{4} + \frac{m}{2} - \mu n = 0, \text{ 联立以上两式，解得 } n = 1, \text{ 故直线 } MN \text{ 恒过 } (1, 0).$$



总结：设 $MN: x = ky + n$ ，是因为 MN 能竖着但不能横着。

利用二次曲线系求解某个未知数的基本步骤：

1. 找到四个点，他们为两个二次曲线的交点。
2. 找出另一个过这个四个点的二次曲线，构造等式。
3. 两边对某些项的系数，找出未知数。

需要说明的是，对比系数时，要通过感觉和尝试选出有用的等式。千万不要将式子展开，那样会很繁，只需要单独算出某些待定项的系数就可以了。

另外，将两个直线方程相乘，变成二次曲线，是一个很重要的技巧。

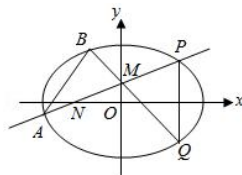
【例8】（2016·山东）已知椭圆 $C: \frac{x^2}{a^2} + \frac{y^2}{b^2} = 1 (a > b > 0)$ 的长轴长为4，焦距为 $2\sqrt{2}$ 。

（1）求椭圆 C 的方程；

（2）过动点 $M(0, m) (m > 0)$ 的直线交 x 轴与点 N ，交 C 于点 A, P （ P 在第一象限），且 M 是线段 PN 的中点。过点 P 作 x 轴的垂线交 C 于另一点 Q ，延长 QM 交 C 于点 B 。

①设直线 PM, QM 的斜率分别为 k_1, k_2 ，证明 $\frac{k_2}{k_1}$ 为定值；

②求直线 AB 的斜率的最小值。



【解析】（1）设椭圆的半焦距为 c 。由题意知 $2a = 4, 2c = 2\sqrt{2}$ ，

所以 $a = 2, b = \sqrt{a^2 - c^2} = \sqrt{2}$ 。所以椭圆 C 的方程为 $\frac{x^2}{4} + \frac{y^2}{2} = 1$ 。

（2）证明：①设 $P(x_0, y_0) (x_0 > 0, y_0 > 0)$ ，由 $M(0, m)$ ，可得 $P(x_0, 2m), Q(x_0, -2m)$ 。所以直线 PM 的

斜率 $k_1 = \frac{2m - m}{x_0} = \frac{m}{x_0}$ ，直线 QM 的斜率 $k_2 = \frac{-2m - m}{x_0} = -\frac{3m}{x_0}$ ，

此时 $\frac{k_2}{k_1} = -3$ 。所以 $\frac{k_2}{k_1}$ 为定值 -3 。



②设 $AB: y = kx + n$, 故我们只要求出 k 的关系式:

$$PA: y = k_1x + m$$

已知 $QB: y = -3k_1x + m$ 因为椭圆过二次曲线 $PA \cdot QB$ 与二次曲线 $AB \cdot PQ$ 的四个交点 A, B, P, Q , 有

$$PQ: x - x_0 = 0$$

$$(x - x_0)(kx - y + n) + \mu(y - k_1x - m)(y + 3k_1x - m) = \lambda \left(\frac{x^2}{4} + \frac{y^2}{2} - 1 \right), \text{ 对比两边 } xy \text{ 项系数, 得 } -1 + 2k_1\mu = 0 \text{ ①,}$$

$$\text{对比两边 } x^2 \text{ 项系数, 得 } k - 3k_1^2\mu = \frac{\lambda}{4} \text{ ②, 对比两边 } y^2 \text{ 项系数, 得 } \mu = \frac{\lambda}{2} \text{ ③,}$$

$$\text{综合①②③得 } k = \frac{3k_1}{2} + \frac{1}{4k_1} \geq \frac{\sqrt{6}}{2}, \text{ 当且仅当 } k_1 = \frac{\sqrt{6}}{6} \text{ 时等号成立.}$$

达标训练

1. 已知抛物线 $y^2 = 2px (p > 0)$, AB 为过抛物线焦点 F 的弦, AB 的中垂线交抛物线 E 于点 M, N . 若 A, M, B, N 四点共圆, 求直线 AB 的方程.

2. (2002·广东) 设 A, B 是双曲线 $x^2 - \frac{y^2}{2} = 1$ 上的两点, 点 $N(1, 2)$ 是线段 AB 的中点.

(1) 求直线 AB 的方程

(2) 如果线段 AB 的垂直平分线与双曲线相交于 C, D 两点, 那么 A, B, C, D 四点是否共圆? 为什么?



3. (2005·湖北) 设 A 、 B 是椭圆 $3x^2 + y^2 = \lambda$ 上的两点, 点 $N(1, 3)$ 是线段 AB 的中点, 线段 AB 的垂直平分线与椭圆相交于 C 、 D 两点.

(1) 确定 λ 的取值范围, 并求直线 AB 的方程;

(2) 试判断是否存在这样的 λ , 使得 A 、 B 、 C 、 D 四点在同一个圆上? 并说明理由.

4. (2015·乌鲁木齐模拟) 已知椭圆 $\frac{x^2}{a^2} + \frac{y^2}{b^2} = 1 (a > b > 0)$ 的离心率为 $\frac{1}{2}$, 点 A 、 B 分别为椭圆的右顶点和上顶点, 且 $|AB| = \sqrt{7}$.

(1) 试求椭圆的方程;

(2) 斜率为 $\frac{\sqrt{3}}{2}$ 的直线 l 与椭圆交于 P 、 Q 两点, 点 P 在第一象限, 求证 A 、 P 、 B 、 Q 四点共圆.

5. (2019·大理期中) 已知椭圆 E 中心在坐标原点, 焦点在坐标轴上, 且经过 $A(-2, 0)$ 、 $B(2, 0)$ 、 $C\left(1, \frac{3}{2}\right)$ 三点.

(1) 求椭圆 E 的方程;

(2) 在直线 $x = 4$ 上任取一点 $T(4, m) (m \neq 0)$, 连接 TA 、 TB , 分别与椭圆 E 交于 M 、 N 两点, 判断直线 MN 是否过定点? 若是, 求出该定点; 若不是, 请说明理由.

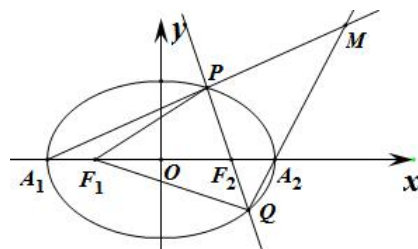


6. (2019·岳麓月考) 已知椭圆 $C: \frac{x^2}{a^2} + \frac{y^2}{b^2} = 1 (a > b > 0)$ 的左、右焦点分别是 F_1, F_2 , 左右顶点分别是 A_1, A_2 , 离心率是 $\frac{\sqrt{2}}{2}$, 过 F_2 的直线与椭圆交于两点 P, Q (不是左、右顶点), 且 $\triangle F_1PQ$ 的周长是 $4\sqrt{2}$, 直线 A_1P 与 A_2Q 交于点 M .

(1) 求椭圆的方程;

(2) ① 求证直线 A_1P 与 A_2Q 的交点 M 在一条定直线 l 上; ② N 是定直线 l 上的一点, 且 PN 平行于 x 轴,

证明: $\frac{|PF_2|}{|PN|}$ 是定值.



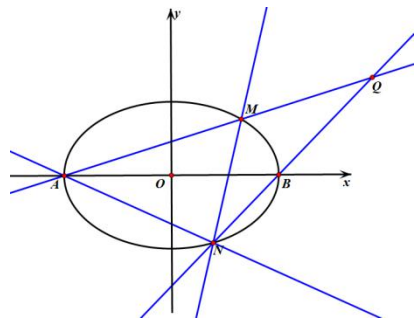
7. (2018·太原模拟) 已知椭圆 $C: \frac{x^2}{a^2} + \frac{y^2}{b^2} = 1 (a > b > 0)$ 的左、右顶点分别为 A_1, A_2 , 右焦点为 $F_2(1, 0)$, 点 $B(1, \frac{3}{2})$ 在椭圆 C 上.

(1) 求椭圆方程;

(2) 若直线 $l: y = k(x-4) (k \neq 0)$ 与椭圆 C 交于 M, N 两点, 已知直线 A_1M 与 A_2N 相交于点 G , 证明: 点 G 在定直线上, 并求出定直线的方程.



8. (2017·徐汇模拟) 如图, A, B 是椭圆 $C: \frac{x^2}{2} + y^2 = 1$ 长轴的两个端点, M, N 是椭圆上与 A, B 均不重合的相异两点, 设直线 AM, BN, AN 的斜率分别是 k_1, k_2, k_3 .



- (1) 求 $k_2 \cdot k_3$ 的值;
- (2) 若直线 MN 过点 $\left(\frac{\sqrt{2}}{2}, 0\right)$, 求证: $k_1 \cdot k_3 = -\frac{1}{6}$;
- (3) 设直线 MN 与 x 轴的交点为 $(t, 0)$ (t 为常数且 $t \neq 0$), 试探究直线 AM 与直线 BN 的交点 Q 是否落在某条定直线上? 若是, 请求出该定直线的方程; 若不是, 请说明理由.

9. 已知 O 为坐标原点, 椭圆 $C: \frac{x^2}{a^2} + \frac{y^2}{b^2} = 1 (a > b > 0)$ 的焦距等于其长半轴长, M, N 为椭圆 C 的上下顶点, 且 $|MN| = 2\sqrt{3}$.

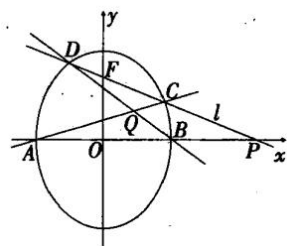
- (1) 求椭圆 C 的方程;
- (2) 过点 $P(0, 1)$ 作直线 l 交椭圆 C 于异于 M, N 的 A, B 两点, 直线 AM, BN 交于点 T , 求证: 点 T 的纵坐标为定值 3.



10. 在平面直角坐标系 xoy 中, 已知椭圆 $\frac{x^2}{9} + \frac{y^2}{5} = 1$ 的左右顶点为 A, B , 右焦点为 F , 设过点 $T(t, m)$ 的直线 TA, TB 与椭圆分别交于点 $M(x_1, y_1), N(x_2, y_2)$, 其中 $m > 0, y_1 > 0, y_2 < 0$

- (1) 设动点 P 满足 $PF^2 - PB^2 = 4$, 求点 P 的轨迹.
- (2) 若 $x_1 = 2, x_2 = \frac{1}{3}$, 求点 T 的坐标.
- (3) 设 $t = 9$, 求证: 直线 MN 必过 x 轴上的一定点 (其坐标与 m 无关).

11. (2011·四川) 如图, 椭圆有两顶点 $A(-1, 0), B(1, 0)$, 过其焦点 $F(0, 1)$ 的直线 l 与椭圆交于 C, D 两点, 并与 x 轴交于点 P . 直线 AC 与直线 BD 交于点 Q . 当点 P 异于 A, B 两点时, 求证: $\overrightarrow{OP} \cdot \overrightarrow{OQ}$ 为定值.



12. (2011·四川) 如图, 过点 $C(0, 1)$ 的椭圆 $\frac{x^2}{a^2} + \frac{y^2}{b^2} = 1 (a > b > 0)$ 的离心率为 $\frac{\sqrt{3}}{2}$, 椭圆与 x 轴交于两点 $A(a, 0), B(-a, 0)$, 过点 C 的直线 l 于椭圆交于另一点 D , 并与 x 轴交于 P , 直线 AC 与直线 BD 交于点 Q .

- (1) 当直线 l 过椭圆右焦点时, 求线段 CD 的长;
- (2) 当点 P 异于点 B 时, 求证: $\overrightarrow{OP} \cdot \overrightarrow{OQ}$ 为定值.

